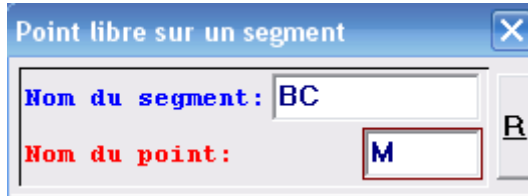


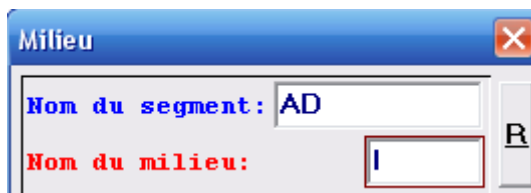
Exercice 82

Le fichier Geoplan-Geospace est disponible sur le site.

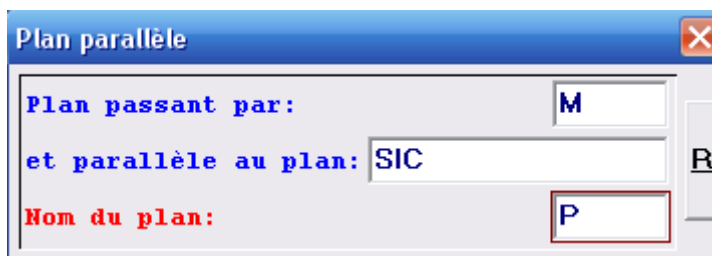
1. a. Menu *Créer/Point/Point libre/Sur un segment*



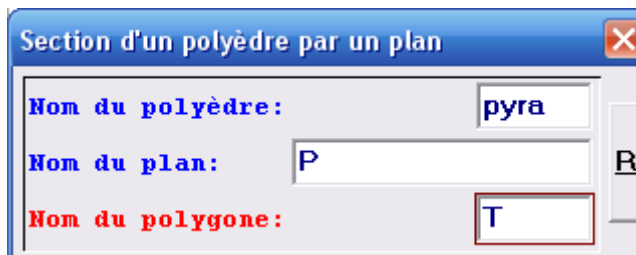
b. Menu *Créer/Point/Milieu*



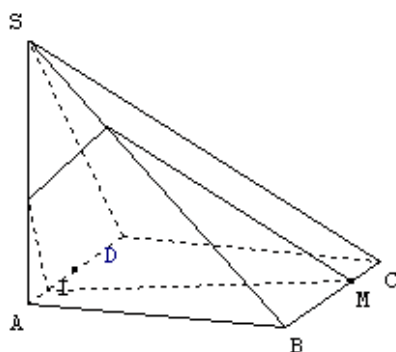
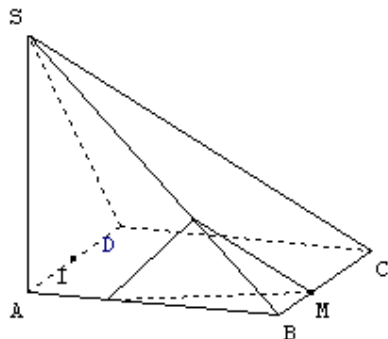
c. Menu *Créer/Plan/Parallèle à un plan*



2. Menu *Créer/Ligne/Polygone convexe/Section d'un polyèdre par un plan*



3. On obtient pour T un triangle ou un quadrilatère.



5. L'aire maximale semble être 22 (en unité d'aire), atteinte quand M est en C.

➤ Conseil

Pour émettre cette conjecture on peut faire afficher les longueurs BM et CM : Menu *Créer / Affichage / Longueur d'un segment*