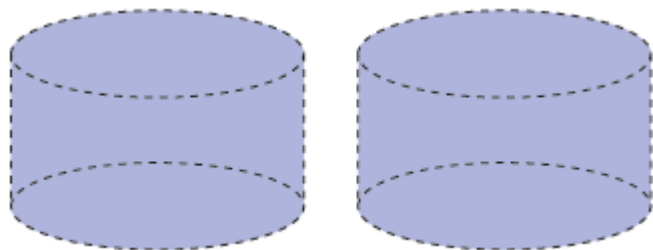


Perspective cavalière : fiche n° 1

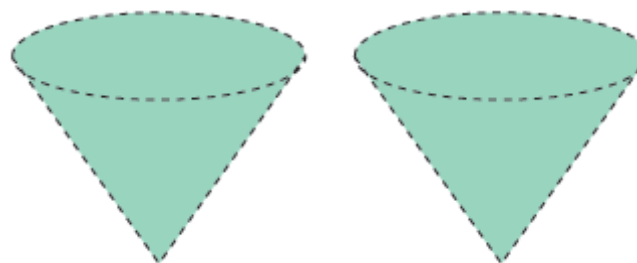
On a dessiné des solides en perspective.

Indiquez le nom de chacun de ces solides et repassez en couleurs les lignes que vous considérez comme visibles, en laissant les autres en pointillés ...

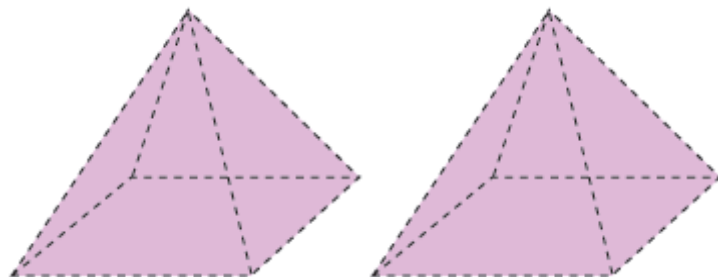
Attention, il y a deux possibilités à chaque fois !



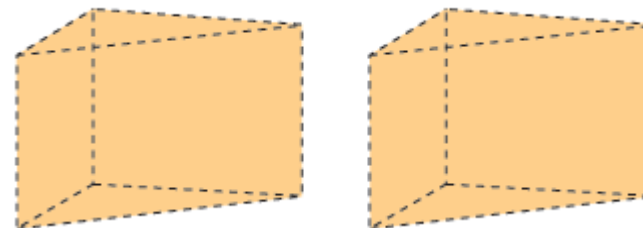
Nom :



Nom :



Nom :



Nom :